

さんすう

たしざんとひきざん 9
どんな けいさんになるのかな



なまえ

ステップ 1

○「2つのかずのちがいから 大きいほうの
かずや 小さいほうのかずをみつける」の
ばめんえと ことばとしき

9 - 1 ~ 4

ステップ 2 ためしのがくしゅう 1

- ① えで もんだいをかんがえる。
えずやすうずで しきをかんがえる。
ことばで しきをあらわす。

9 - 5・6

ステップ 3 えらんでする 1

- ① えずで かんがえる。
② 2つのすうずで かんがえる。
③ 1つのすうずで かんがえる。

9 - 7 ~ 9

9 - 10 ~ 12

9 - 13 ~ 15

ステップ 4

- ① えやすをかいて かんがえる。

9 - 16・17

ステップ 5 ためしのがくしゅう 2

- ① えで もんだいをかんがえる。
えずやすうずで しきをかんがえる。
ことばで しきをあらわす。

9 - 18・19

ステップ 6 えらんでする 2

- ① えずで かんがえる。
② 2つのすうずで かんがえる。
③ 1つのすうずで かんがえる。

9 - 20 ~ 22

9 - 23 ~ 25

9 - 26 ~ 28

ステップ 7

- ① えやすをかいて かんがえる。

9 - 29 ~ 31

かずを ○と すうじで かきましょう。

① 5より 3 おおきいかず

5	○	○	○	○	○					
8	○	○	○	○	○	○	○	○		

② 7より 2 おおきいかず

7	○	○	○	○	○	○	○			

③ 3より 6 おおきいかず

3	○	○	○							

④ 4より 3 おおきいかず

4	○	○	○	○						

⑤ 8より 2 おおきいかず

8	○	○	○	○	○	○	○	○		

かずを ○と すうじで かきましょう。

① 7より 3 ちいさいかず

7	○	○	○	○	○	○	○
4	○	○	○	○			

② 5より 2 ちいさいかず

5	○	○	○	○	○

③ 6より 4 ちいさいかず

6	○	○	○	○	○	○

④ 9より 5 ちいさいかず

9	○	○	○	○	○	○	○	○

⑤ 8より 2 ちいさいかず

8	○	○	○	○	○	○	○

○を かいて くだものの かずを あらわしましょう。
おなじかずの ところに あかいせんを ひきましょう。

- ① かきが 5こ あります。
くりは かきより 4こ おおいです。



5



○	○	○	○	○					

- ② ももが 6こ あります。
バナナは ももより 2こ すくないです。



6



- ③ りんごが 4こ あります。
みかんは りんごより 3こ おおいです。



4



- ④ すいかが 9こ あります。
メロンは すいかより 3こ すくないです。



9



○を かいて くだものの かずを あらわしましょう。

① すいかが 3こ あります。

メロンは すいかより 3こ おおいです。

すいか

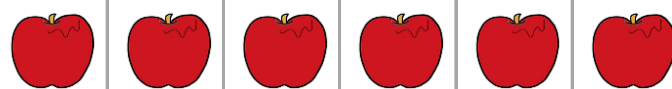


メロン

② りんごが 6こ あります。

バナナは りんごより 2こ おおいです。

りんご




バナナ

③ かきが 8こ あります。

くりは かきより 1こ おおいです。

かき



くり

④ バナナが 4ほん あります。

ももは バナナより 2こ すくないです。

バナナ

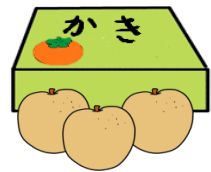


もも

なしが 3こ あります。

かきは なしより 5こ おおいです。

かきは なんこ ありますか。



1 もんだいを かんがえる。

○ たずねていることばを で かこむ。

○ 2つのかずを せんを ひく。

○ たずねていることばと 2つのかずを かく。

たずねていることば

2つのかず

[なしが 3こ]

[なしより 5こ おおい]

○ たずねていることと 2つのかずを かく。

[なしが 3こ]

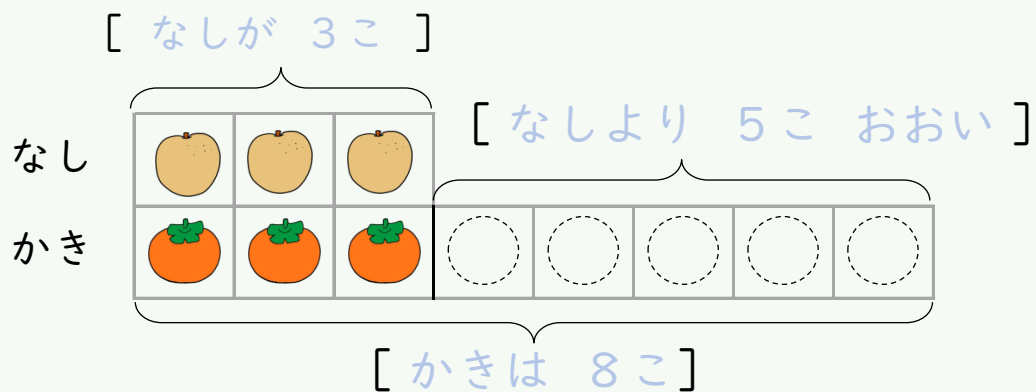
[なしより 5こ おおい]



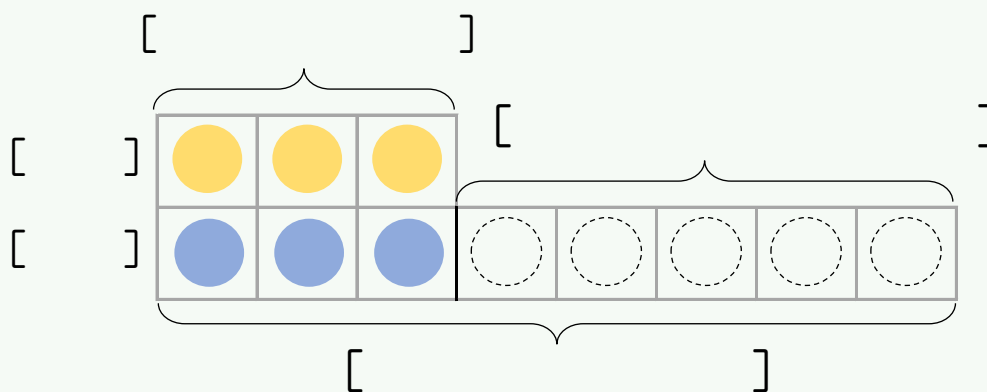
たずねて
いること

2 しきを かんがえる。

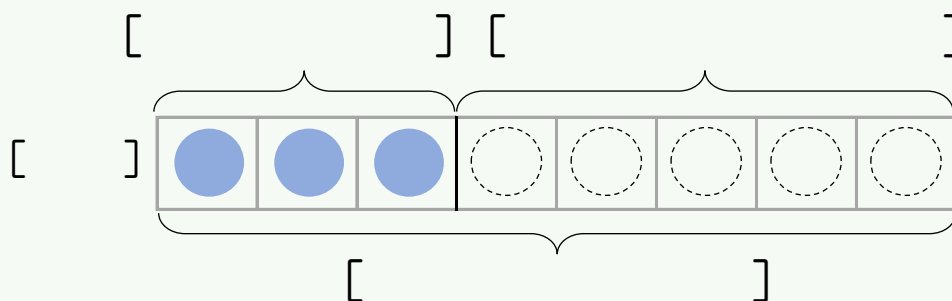
えずで かんがえる



2つのすうずで かんがえる



1つのすうずで かんがえる



3 ことばのしきを つくる。

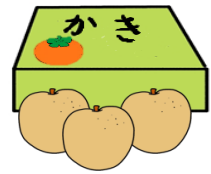
なし [こ] と なしより おおいかず [こ] を

[たすと] かきは [こ]

なしが 3こ あります。

かきは なしより 5こ おおいです。

かきは なんこ ありますか。



たずねていることばと 2つのかずを みつける

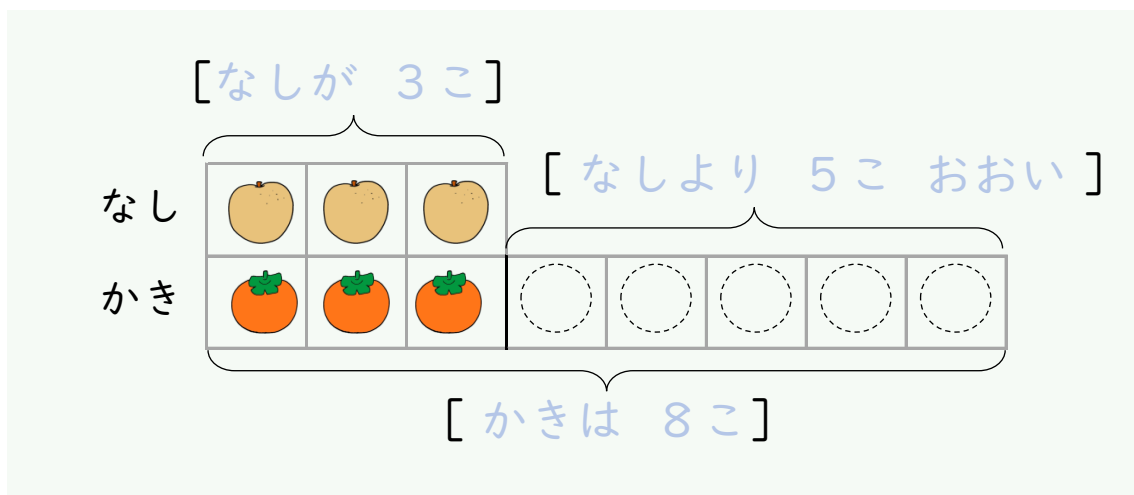
たずねていることば

2つのかず

[]

[]

えずで しきを かんがえる



ことばのしき

なし [こ] と なしより おおいかず [こ] を

[] かきは [こ]

しきと こたえ

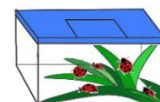
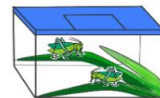
しき

こたえ

バッタが 2ひき います。

てんとうむしは バッタより 3ひき おおいです。

てんとうむしは なんびきですか。



たずねていることばと 2つのかずを みつける

たずねていることば

2つのかず

[]

[]

えずで しきを かんがえる

[]

バッタ

てんとうむし

[]

[]

[]

[]

ことばのしき

バッタ [ひき] と バッタより おおいかず [ひき] を

[] てんとうむしは [ひき]

しきと こたえ

しき

こたえ

ともみさんは あめを 6こ もっています。

やすおさんは ともみさんより 2こ おおいです。

やすおさんは なんこ もっていますか。



たずねていることばと 2つのかずを みつける

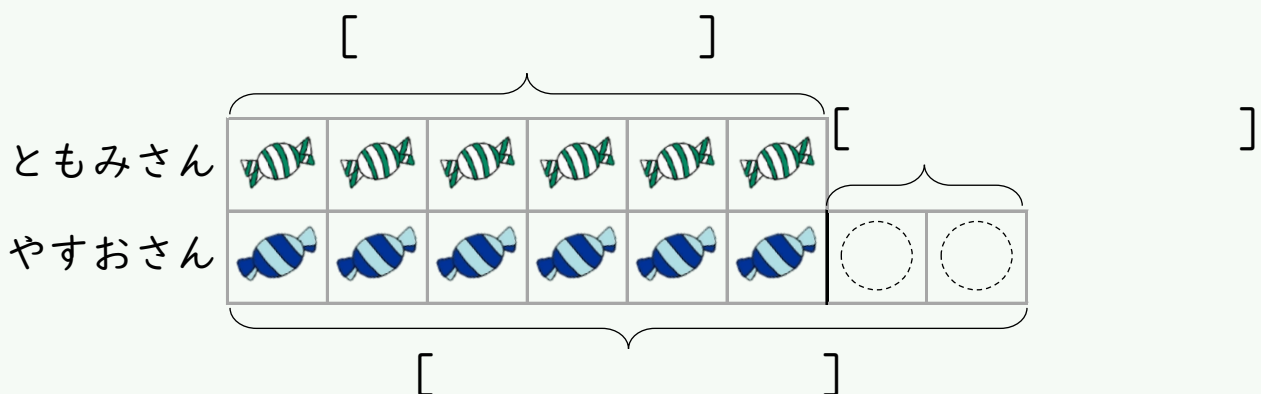
たずねていることば

2つのかず

[]

[]

えずで しきを かんがえる



ことばのしき

ともみさんの あめ [こ] と ともみさんより おおいかず

[こ] を [] やすおさんの あめは [こ]

しきと こたえ

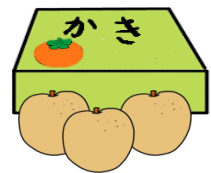
しき

こたえ

なしが 3こ あります。

かきは なしより 5こ おおいです。

かきは なんこ ありますか。



たずねていることばと 2つのかずを みつける

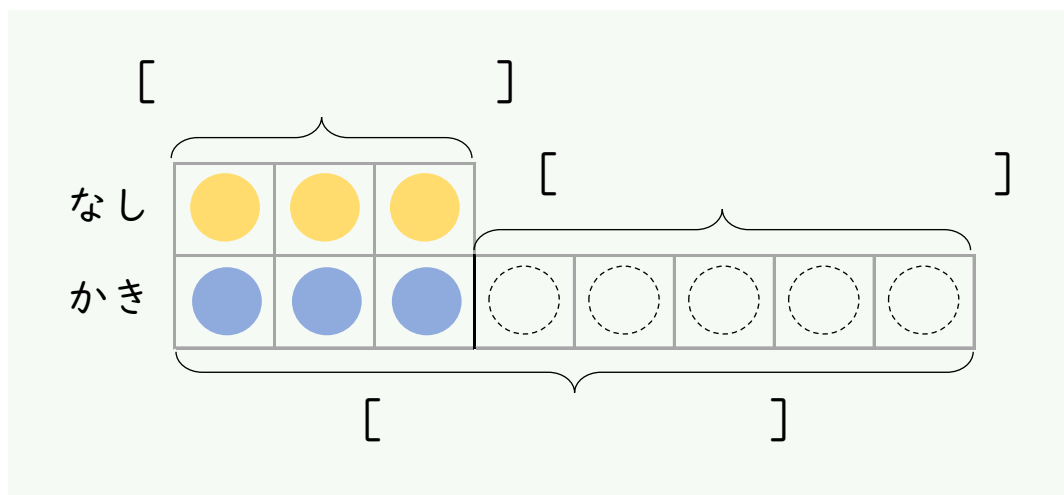
たずねていることば

2つのかず

[]

[]

2つのすうずで しきを かんがえる



ことばのしき

しきと こたえ

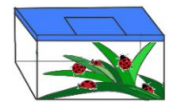
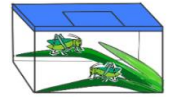
しき

こたえ

バッタが 2ひき います。

てんとうむしは バッタより 3ひき おおいです。

てんとうむしは なんびきですか。



たずねていることばと 2つのかずを みつける

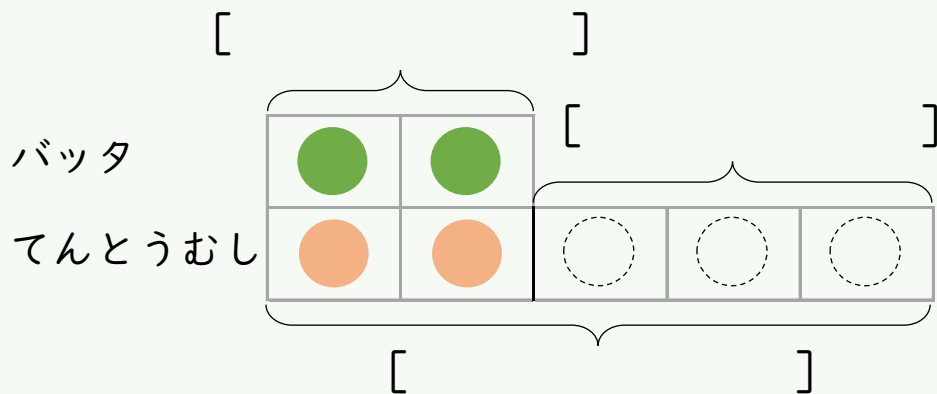
たずねていることば

2つのかず

[]

[]

2つのすうずで しきを かんがえる



ことばのしき

しきと こたえ

しき

こたえ

ともみさんは あめを 6こ もっています。

やすおさんは ともみさんより 2こ おおいです。

やすおさんは なんこ もっていますか。



たずねていることばと 2つのかずを みつける

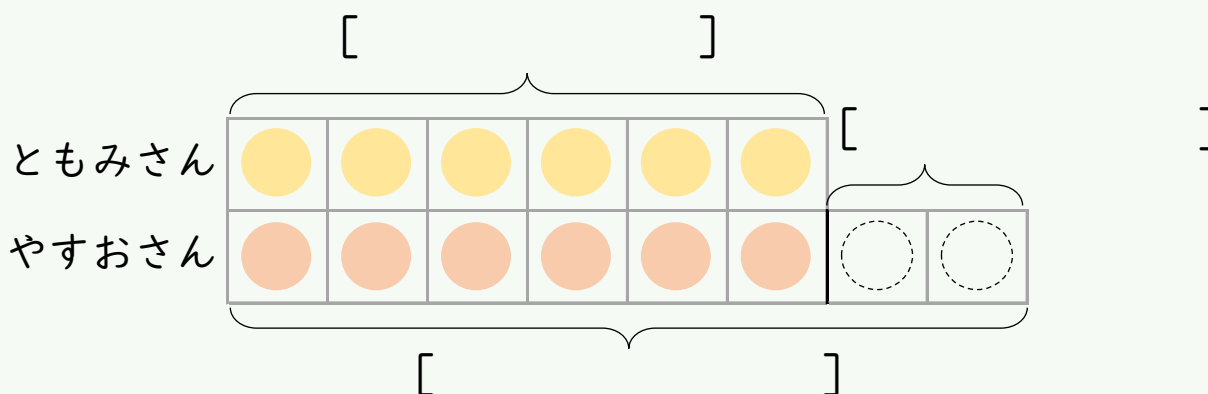
たずねていることば

2つのかず

[]

[]

2つのすうずで しきを かんがえる



ことばのしき

しきと こたえ

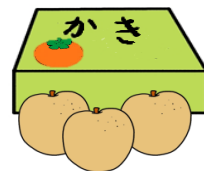
しき

こたえ

なしが 3こ あります。

かきは なしより 5こ おおいです。

かきは なんこ ありますか。



たずねていることばと 2つのかずを みつける

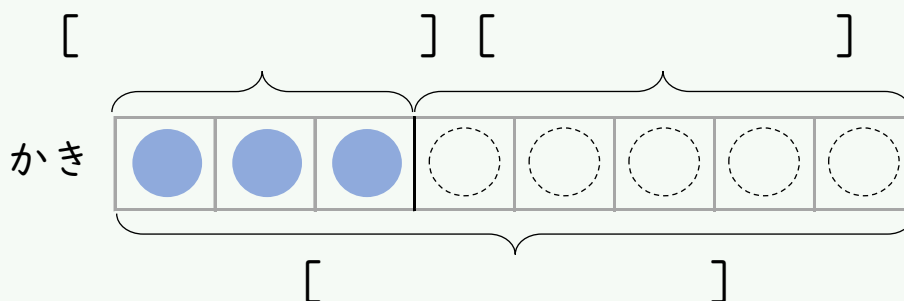
たずねていることば

2つのかず

[]

[]

1つのすうずで しきを かんがえる



ことばのしき

しきと こたえ

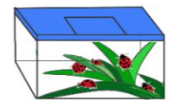
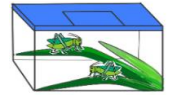
しき

こたえ

バッタが 2ひき います。

てんとうむしは バッタより 3ひき おおいです。

てんとうむしは なんびきですか。



たずねていることばと 2つのかずを みつける

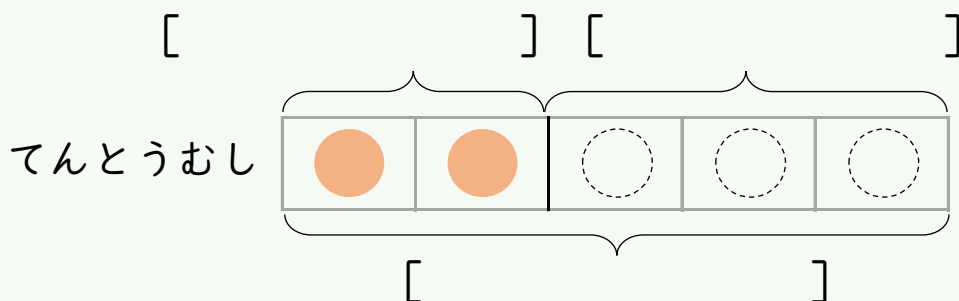
たずねていることば

2つのかず

[]

[]

1つのすうずで しきを かんがえる



ことばのしき

しきと こたえ

しき

こたえ

ともみさんは あめを 6こ もっています。

やすおさんは ともみさんより 2こ おおいです。

やすおさんは なんこ もっていますか。



たずねていることばと 2つのかずを みつける

たずねていることば

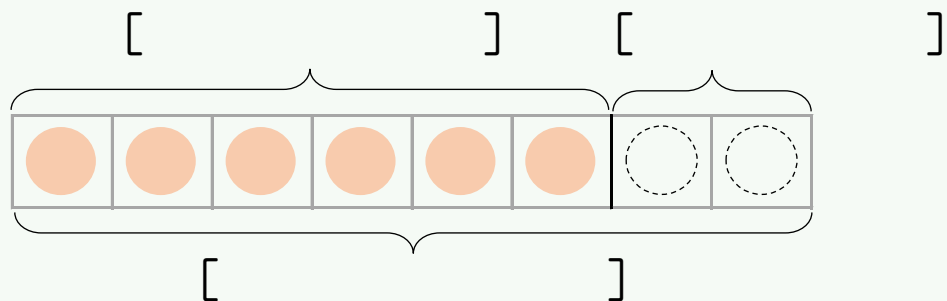
2つのかず

[]

[]

1つのすうずで しきを かんがえる

やすおさんの
あめ



ことばのしき

しきと こたえ


しき

こたえ

ももが 4こ あります。

なしは ももより 3こ おおいです。

なしは ぜんぶで なんこ ありますか。



たずねていることばと 2つのかずを みつける

たずねていることば

2つのかず

[

]

[

]

えやずを かいて しきを かんがえる

ことばのしき

しきと こたえ


しき

こたえ

あめが 7こ あります。

ガムは あめより 2こ おおいです。

ガムは ぜんぶで なんこ ありますか。



たずねていることばと 2つのかずを みつける

たずねていることば

2つのかず

[]

[]

えやずを かいて しきを かんがえる

ことばのしき

しきと こたえ

しき

こたえ

ジュースが 9こ あります。

ケーキは ジュースより 3こ すくないです。

ケーキは なんこ ありますか。



1 もんだいを かんがえる。

○ たずねていることばを で かこむ。

○ 2つのかずに センを ひく。

○ たずねていることばと 2つのかずを かく。

たずねていることば


2つのかず

[ジュースが 9こ]

[ジュースより 3こ すくない]

○ たずねていることと 2つのかずを かく。

[ジュースが 9こ] [ジュースより 3こ すくない]



たずねて
いること

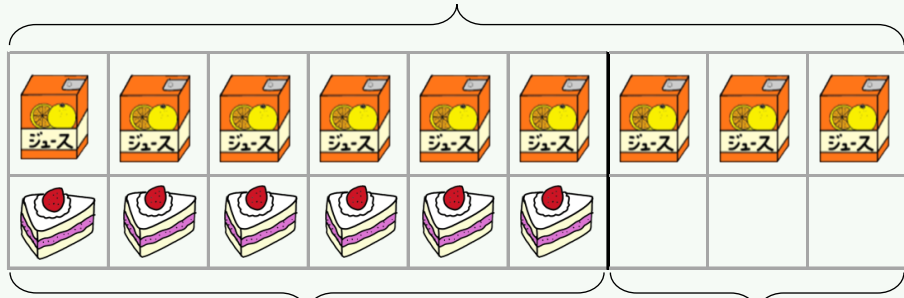
2 しきをかんだげる。

えずで かんがえる

[ジュースは 9こ]

ジュース

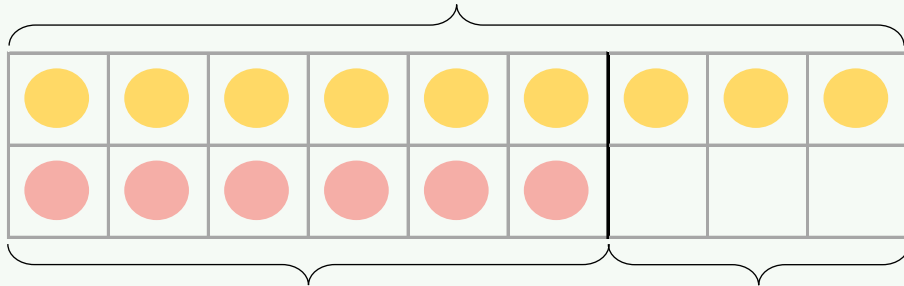
ケ一キ



〔 ケーキは 6 こ 〕 〔 ジュースより 3 こ すくない 〕

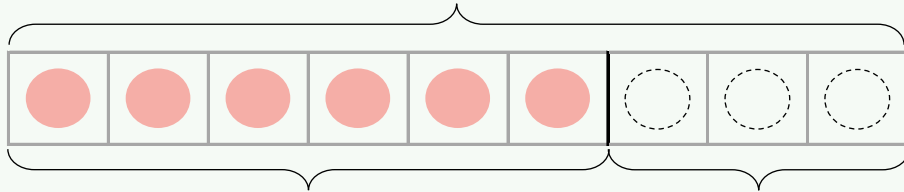
2つのすうずで かんがえる

[]

$$[\quad]$$
$$[\quad]$$

$$\left[\begin{array}{c} \vdots \\ \vdots \end{array} \right] \left[\begin{array}{c} \vdots \\ \vdots \end{array} \right]$$

1つのすうずで かんがえる

[]

$$[\quad]$$

$$[\quad] \quad [\quad]$$

3 ことばのしきをつくる。

ジュースが [こ] から ジュースより すくないかず

[こ] を [ひくと] ケーキは [こ]

ジュースが 9こ あります。

ケーキは ジュースより 3こ すくないです。

ケーキは なんこ ありますか。



たずねていることばと 2つのかずを みつける

たずねていることば

2つのかず

[

]

[

]

えずで しきを かんがえる

[ジュースは 9こ]

ジュース



ケーキ

[ケーキは 6こ]

[ジュースより 3こ すくない]

ことばのしき

ジュースが [こ] から ジュースより すくないかず


[こ] を [] ケーキは [こ]

しきと こたえ

しき

こたえ

あめは なんこですか。

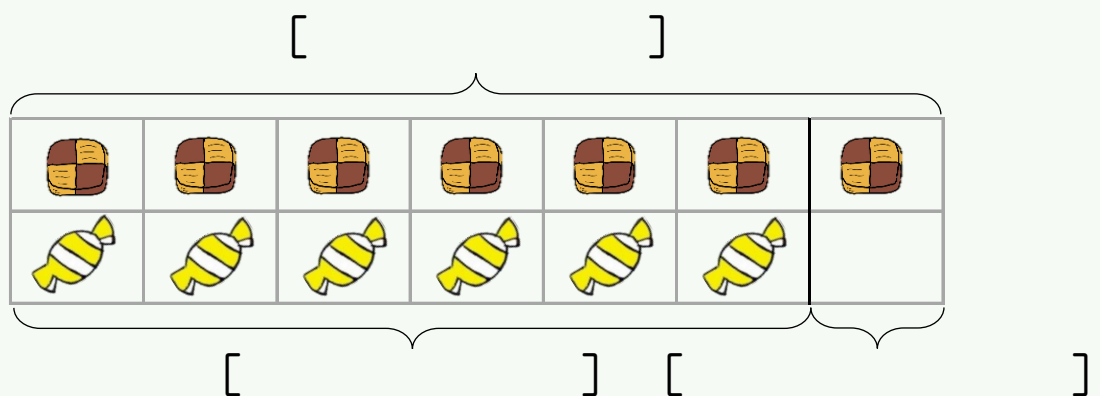


たずねていることは

[]

[]

あめ



[こ] を [] あめは []

しき

--

こたえ

バスが 7だい あります。

トラックは バスより 5だい すくないです。

トラックは なんだい ありますか。



たずねていることばと 2つのかずを みつける










たずねていることば

2つのかず

[]

[]

えずで しきを かんがえる

	[]									
バス										
トラック										
	[]		[]							

ことばのしき

バスが [だい] から バスより すくないかず

[だい] を [] トラックは [だい]

しきと こたえ

しき

こたえ

ジュースが 9こ あります。

ケーキは ジュースより 3こ すくないです。

ケーキは なんこ ありますか。



たずねていることばと 2つのかずを みつける

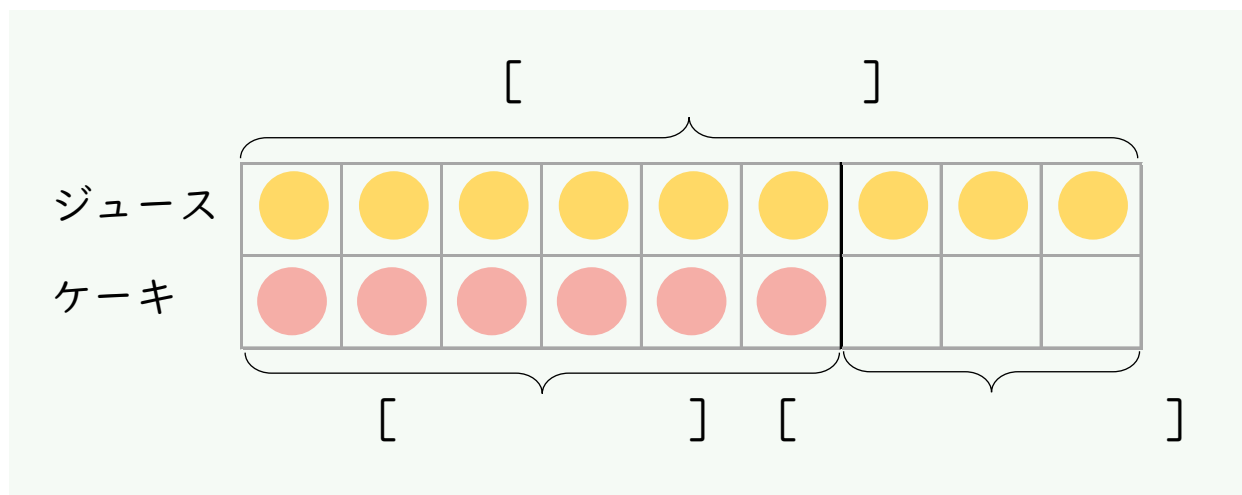
たずねていることば

2つのかず

[]

[]

2つのすうずで しきを かんがえる



ことばのしき

しきと こたえ

しき

こたえ

クッキーが 7こ あります。

あめは クッキーより 1こ すくないです。

あめは なんこですか。



たずねていることばと 2つのかずを みつける

たずねていることば

2つのかず

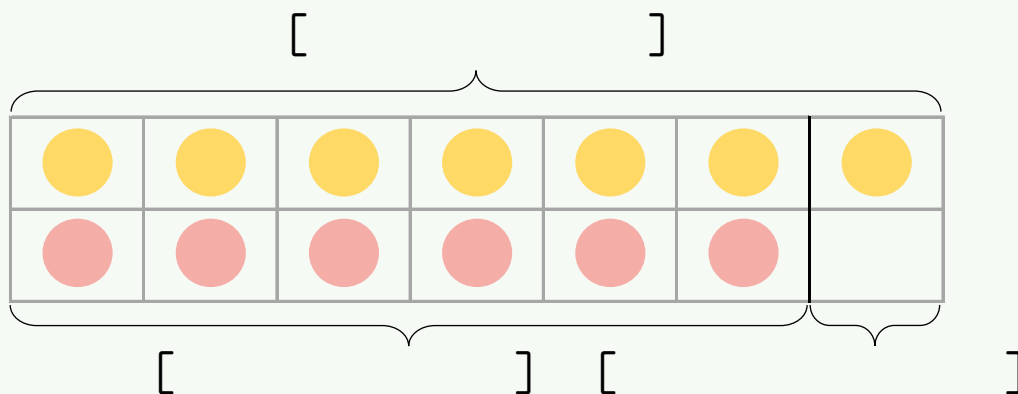
[]

[]

2つのすうずで しきを かんがえる

クッキー

あめ



ことばのしき

しきと こたえ

しき

こたえ

バスが 7 だい あります。

トラックは バスより 5 だい すくないです。

トラックは なんだい ありますか。



たずねていることばと 2 つのかずを みつける

たずねていることば

2 つのかず

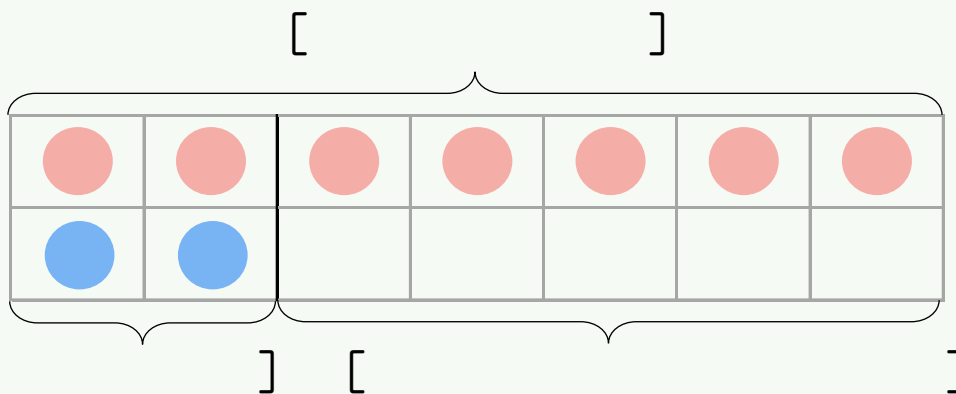
[]

[]

2 つのすうずで しきを かんがえる

バス

トラック



ことばのしき

しきと こたえ

しき

こたえ

ジュースが 9こ あります。

ケーキは ジュースより 3こ すくないです。

ケーキは なんこ ありますか。



たずねていることばと 2つのかずを みつける

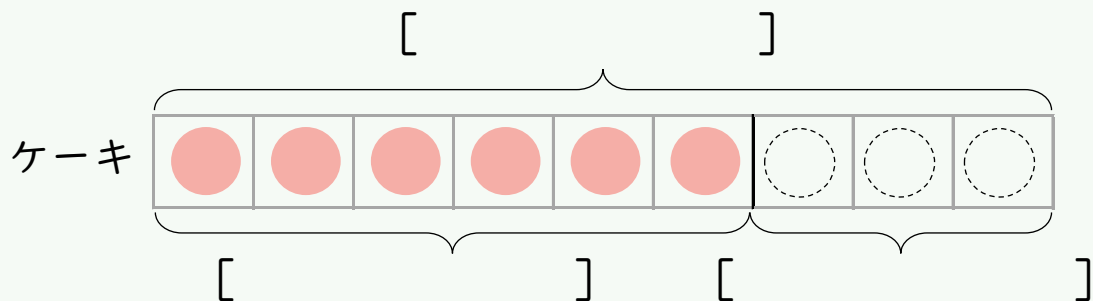
たずねていることば

2つのかず

[]

[]

1つのすうずで しきを かんがえる



ことばのしき

しきと こたえ

しき

こたえ

クッキーが 7こ あります。

あめは クッキーより 1こ すくないです。

あめは なんこですか。



たずねていることばと 2つのかずを みつける

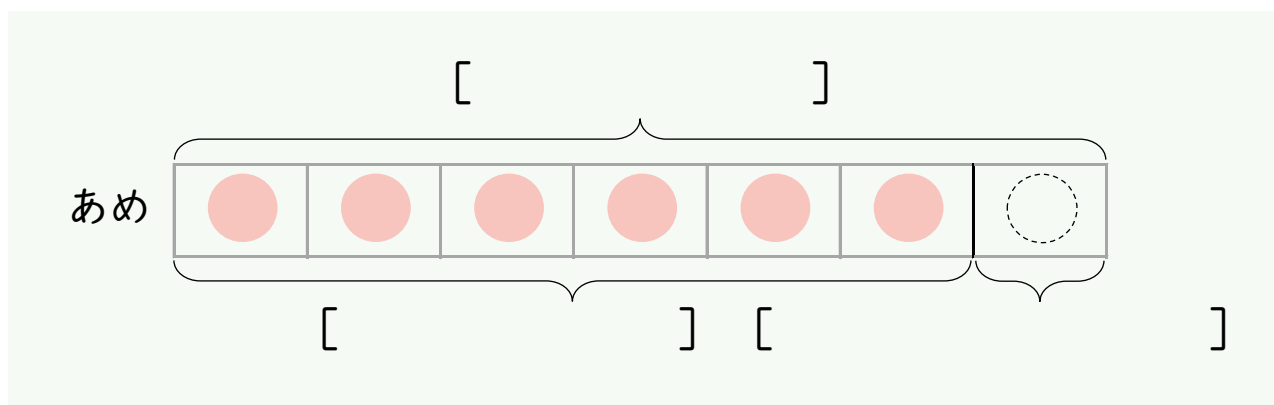
たずねていることば

2つのかず

[]

[]

1つのすうずで しきを かんがえる



ことばのしき

しきと こたえ

しき

こたえ

バスが 7だい あります。

トラックは バスより 5だい すくないです。

トラックは なんだい ありますか。



たずねていることばと 2つのかずを みつける

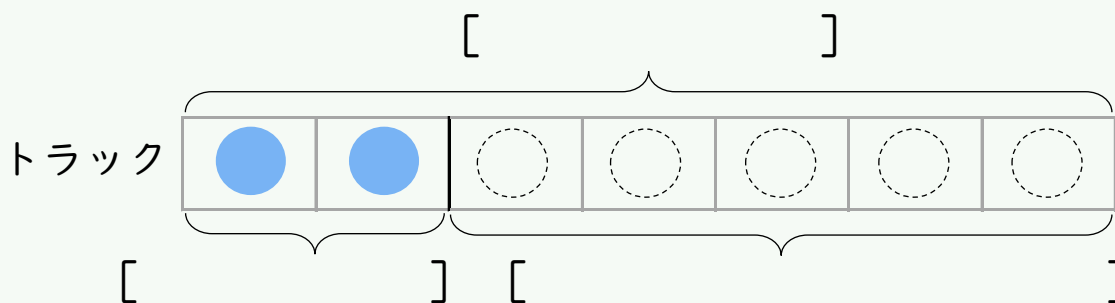
たずねていることば

2つのかず

[]

[]

1つのすうずで しきを かんがえる



ことばのしき

しきと こたえ


しき

こたえ

クッキーが 5こ あります。

ドーナツは クッキーより 2こ すくないです。

ドーナツは なんこ ありますか。



たずねていることばと 2つのかずを みつける

たずねていることば

2つのかず

[

]

[

]

えやずを かいて しきを かんがえる

ことばのしき

しきと こたえ

しき

こたえ

おんなのこが 8にん います。

おとこのこは おんなのこより 3にん すくないです。

おとこのこは なんにん いますか。



たずねていることばと 2つのかずを みつける

たずねていることば

2つのかず

[]

[]

えやずを かいて しきを かんがえる

ことばのしき

しきと こたえ


しき

こたえ

あかえんぴつが 6ぽん あります。

あおえんぴつは あかえんぴつより 4ぽん すくないです。

あおえんぴつは なんぽん ありますか。



たずねていることばと 2つのかずを みつける

たずねていることば

2つのかず

[]

[]

えやずを かいて しきを かんがえる

ことばのしき

しきと こたえ

しき

こたえ